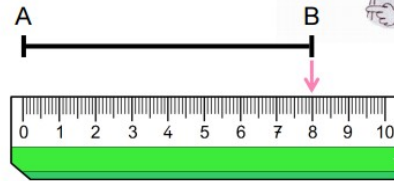
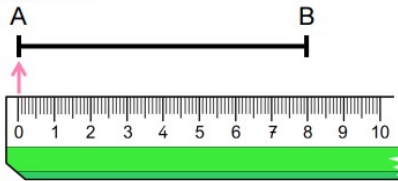
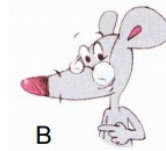


la règle graduée

G9



Mesurer
c'est chercher la longueur d'un segment.
Pour mesurer un segment, j'utilise ma règle.
MÉMO



MÉMO
1 Je place
le 0 de la règle sur une
extrémité du segment.

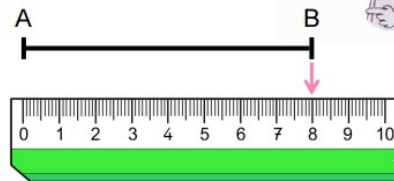
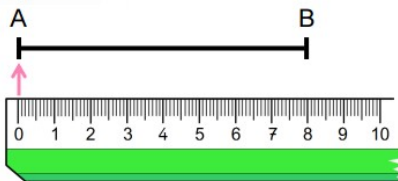
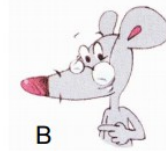
MÉMO
2 Je lis
la longueur du segment
sur la règle en regardant la seconde
extrémité. Ici, le segment [AB]
mesure 8 cm (centimètres).

la règle graduée

G9



Mesurer
c'est chercher la longueur d'un segment.
Pour mesurer un segment, j'utilise ma règle.
MÉMO



MÉMO
1 Je place
le 0 de la règle sur une
extrémité du segment.

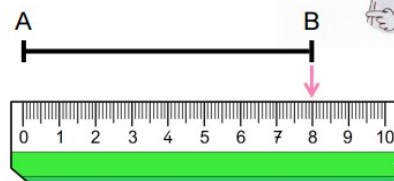
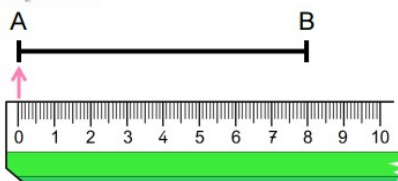

MÉMO
2 Je lis
la longueur du segment
sur la règle en regardant la seconde
extrémité. Ici, le segment [AB]
mesure 8 cm (centimètres).

la règle graduée

G9



Mesurer
c'est chercher la longueur d'un segment.
Pour mesurer un segment, j'utilise ma règle.
MÉMO



MÉMO
1 Je place
le 0 de la règle sur une
extrémité du segment.

MÉMO
2 Je lis
la longueur du segment
sur la règle en regardant la seconde
extrémité. Ici, le segment [AB]
mesure 8 cm (centimètres).